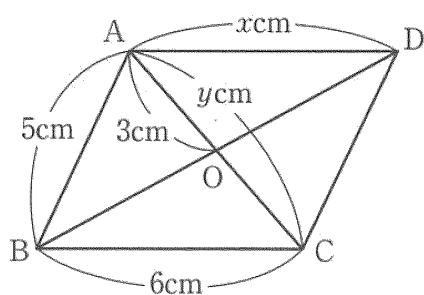


中2～第45回平行四辺形の性質～

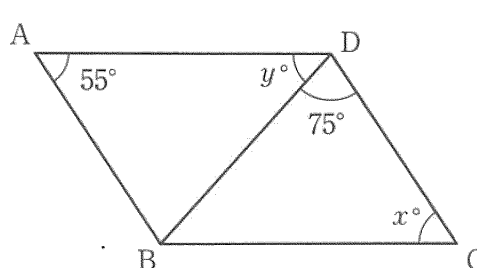
氏名：

例題 次の図の□ABCDで、 x 、 y の値をそれぞれ求めなさい。

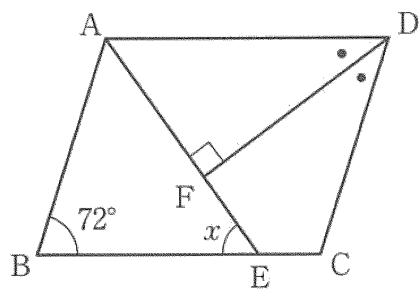
(1)



(2)



(3) $\angle ADF = \angle CDF$, $AE \perp DF$



(4) $DE = DC$, $\angle BAE = \angle DAE$

