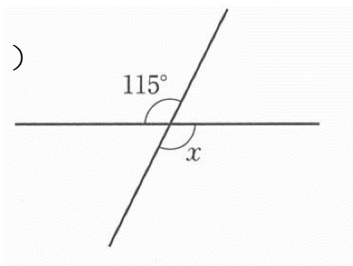


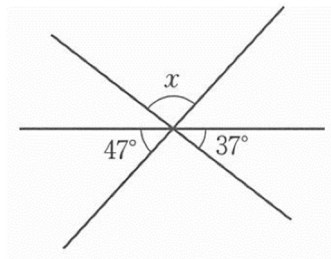
中2～第29回角と平行線～
氏名：

例1 次の図で、 $\angle x$ は何度ですか。

(1)

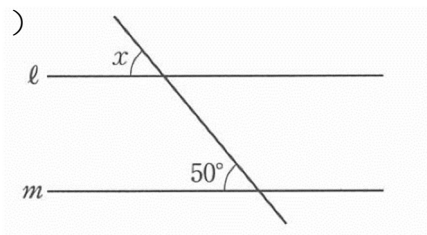


(2)

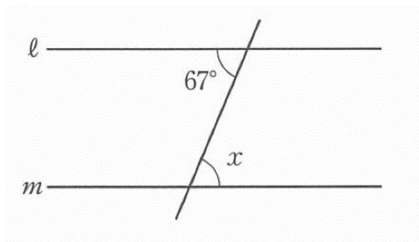


例2 次の図で、 $l \parallel m$ のとき、 $\angle x$ は何度ですか。

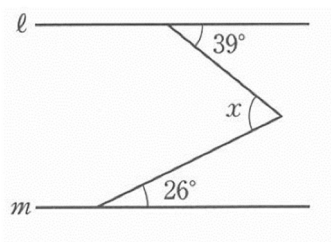
(1)



(2)



(3)



(4)

