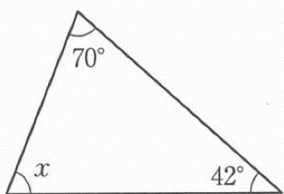


中2～第30回三角形の角～

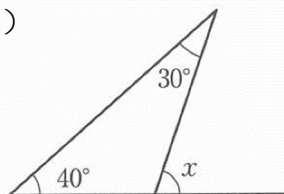
氏名：

例1 次の図で、 $\angle x$ は何度ですか。

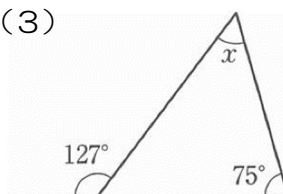
(1)



(2)



(3)



例2 次の $\triangle ABC$ は、鋭角三角形、直角三角形、鈍角三角形のうちのどれですか。

(1)  $\angle A=55^\circ$  ,  $\angle B=75^\circ$  の $\triangle ABC$

(2)  $\angle A=30^\circ$  ,  $\angle C=45^\circ$  の $\triangle ABC$

(3)  $\angle B=15^\circ$  ,  $\angle C=75^\circ$  の $\triangle ABC$