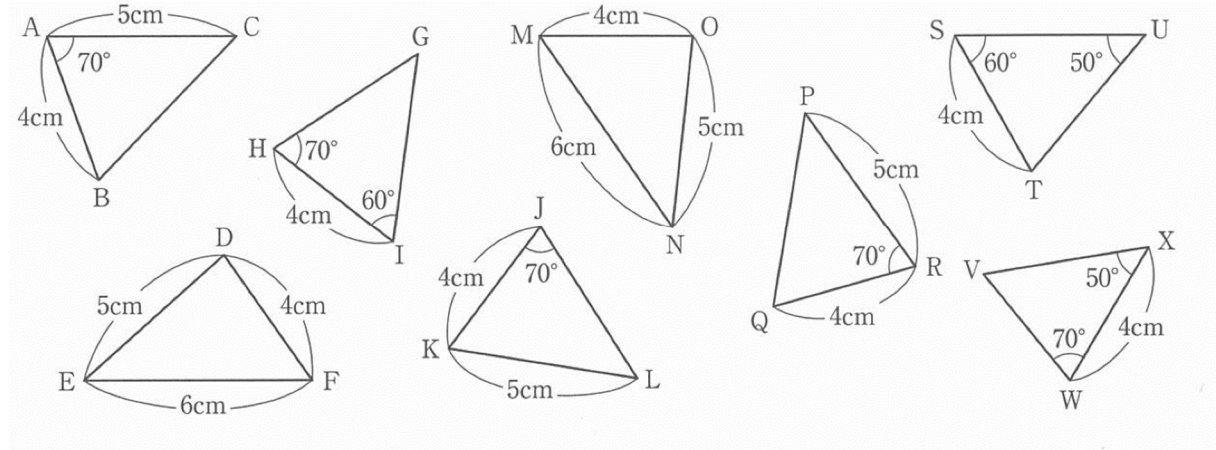


中2～第36回三角形の合同条件～

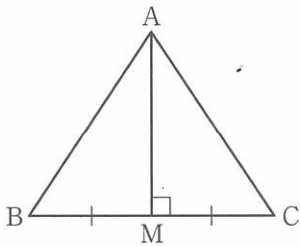
氏名：

例1 次の図で、合同な三角形の組を見つけ、記号 $\cong$ を使って表しなさい。  
また、そのときに使った合同条件を答えなさい。

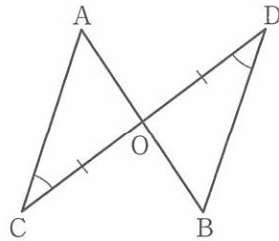


例2 次の図で、合同な三角形の組を見つけ、記号 $\cong$ を使って表しなさい。  
また、そのときに使った合同条件を答えなさい。

(1)



(2)



(3)

