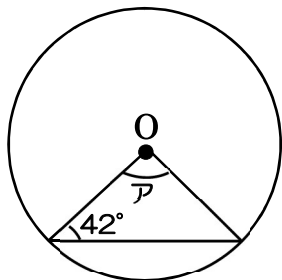


1 から学ぶ中学受験算数 ～第6回角度⑤（円の角度①）～

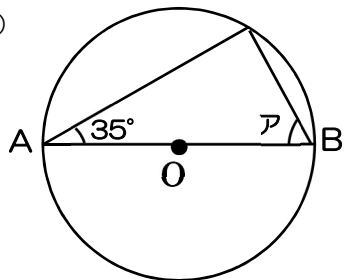
氏名：

例題 次の図の円で、角アは何度ですか。

(1)

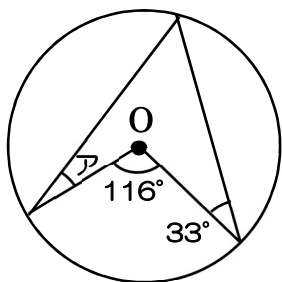


(2)

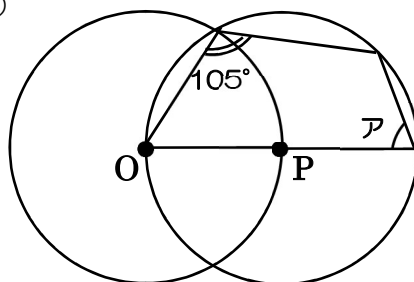


ABは直径

(3)



(4)



円Oと円Pの中心をそれぞれ通っている