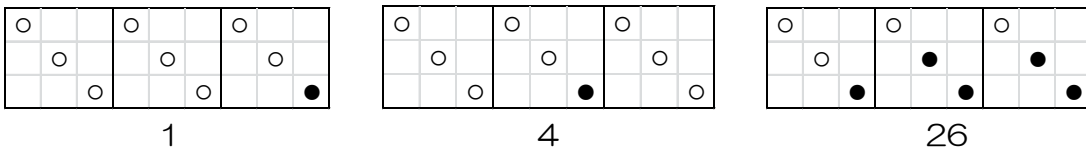


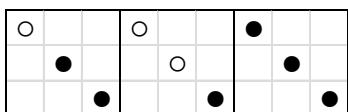
1 から学ぶ中学受験算数～第68回 N進法②（マス目の問題）～

氏名：

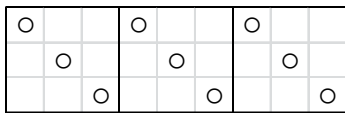
例1 次の数は、あるきまりにしたがって整数を表しています。



(1) 次の図はいくつを表していますか。



(2) この方法で56を表しなさい。



例2 次の図は、あるきまりにしたがって整数を表しています。



(1) ●○○●●は、いくつを表していますか。

(2) この方法で19を表しなさい。



(3) この方法で表せる最大の数はいくつですか。