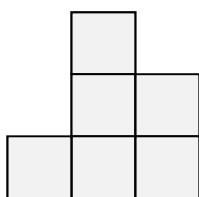


1から学ぶ中学受験算数 ～第63回 立方体の積み木の個数①～

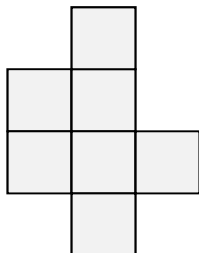
氏名：

**例題** 1辺が2cmの立方体を積み重ねて立体を作りました。次の図はその立体を正面、真上、右横から見た図です。

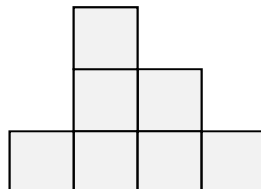
正面から見た図



真上から見た図



右横から見た図



(1) 積み重ねた立方体の数は何個ですか。

(2) この立体の表面積は何  $\text{cm}^2$  ですか。