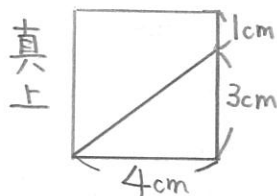
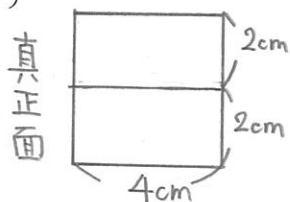


1から学ぶ中学受験算数 ～第43回 投影図～

氏名：

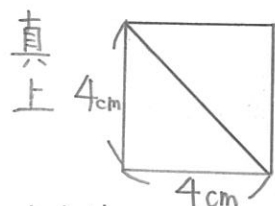
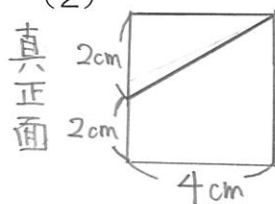
例題 次の投影図で表された立体の体積を求めなさい。

(1)



(立方体から三角柱を切り取った)

(2)



(立方体を1つの平面で切った)