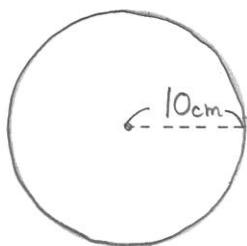


1から学ぶ中学受験算数 ~第40回 円とおうぎ形①~

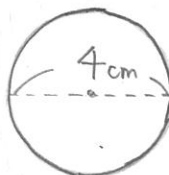
氏名：

例1 次の円の円周と面積を求めなさい。

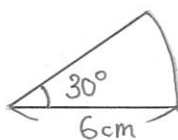
(1)



(2)



例2 次のおうぎ形のまわりの長さとおうぎ形の面積を求めなさい。



例3 下の図のかげをつけた部分のまわりの長さとおうぎ形の面積を求めなさい

