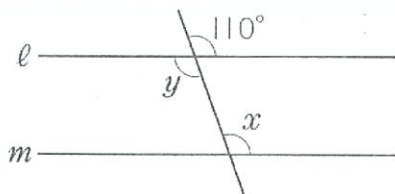


1から学ぶ中学受験算数 ～第6回角度①～

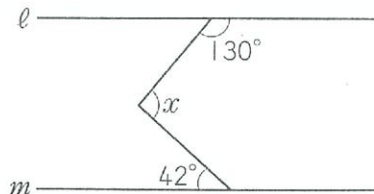
氏名：

例1 直線 l と直線 m が平行のとき、角 x と角 y の大きさを求めなさい。

(1)

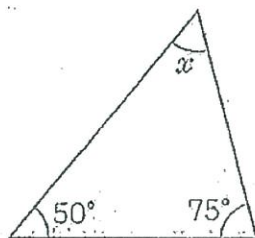


(2)

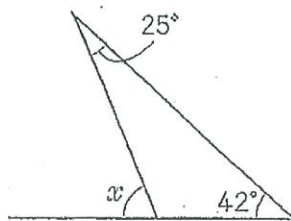


例2 角 x の大きさを求めなさい。

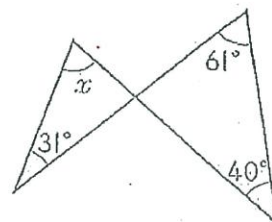
(1)



(2)

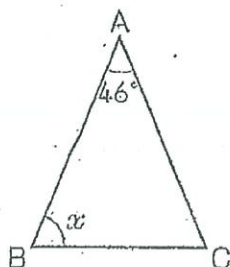


(3)

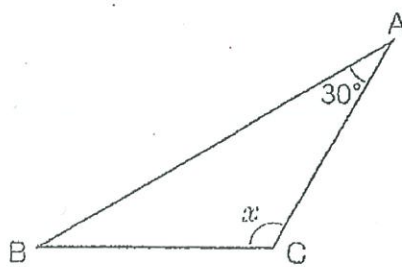


例3 角 x の大きさを求めなさい。

(1) $AB=AC$



(2) $BC=AC$



(3) $AB=BC=CA$

