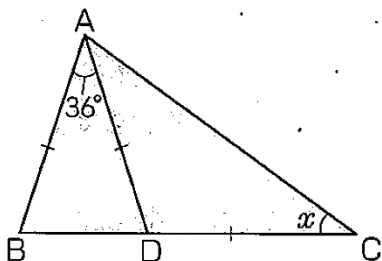


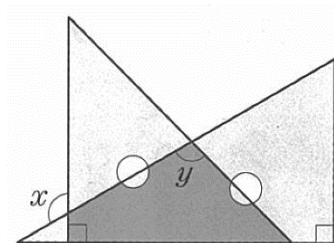
1 から学ぶ中学受験算数 ～第6回角度②～

氏名：

例1 AB=AD=DC のとき、角 x の大きさを求めなさい。

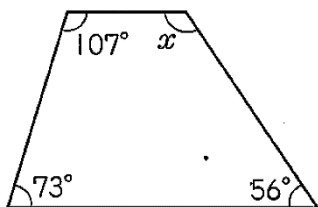


例2 下の図は、1組の三角定規を組み合わせたものです。角 x と角 y の大きさを求めなさい。

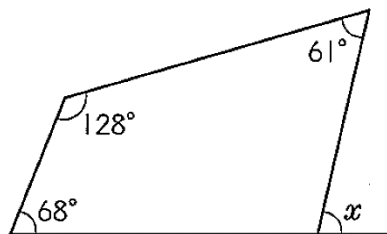


例3 次の図で、角 x の大きさを求めなさい。

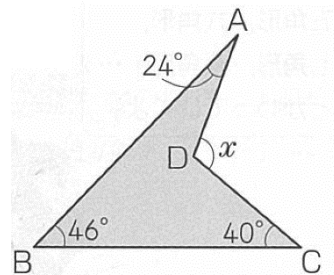
(1)



(2)



例4 次の図で、角 x の大きさを求めなさい。



例5 次の図で、角 x の大きさを求めなさい。

