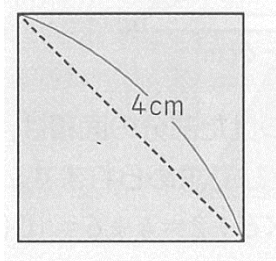


1 から学ぶ中学受験算数 ～第7回面積②～

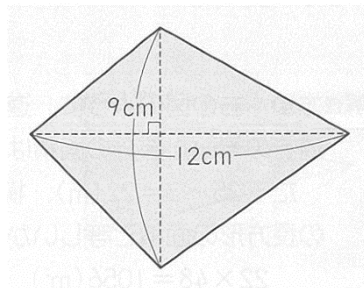
氏名：

例1 次の図形の面積を求めなさい

(1)

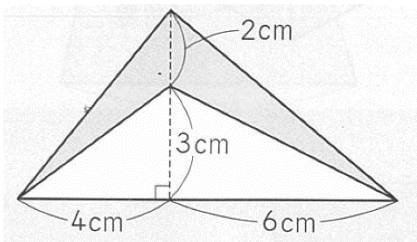


(2)

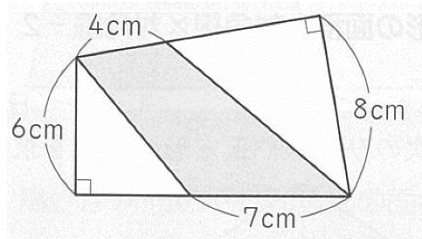


例2 次の図で、かげをつけた部分の面積を求めなさい

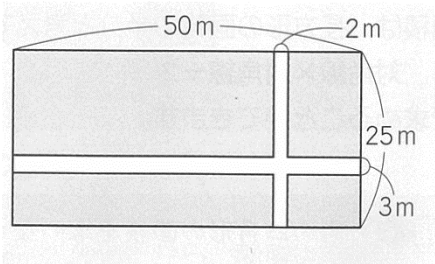
(1)



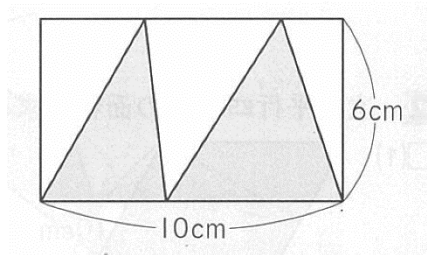
(2)



(3)



(4)



例3 次の三角形の面積を求めなさい

